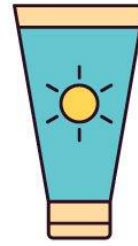



<https://maestraglo.altervista.org/>



GIOCHI DI LOGICA in valigia

Per bambini brillanti!

Nome:



@maestraglo

<https://maestraglo.altervista.org/>






Sudoku

Ritaglia le figure in fondo alla pagina.
Poi incollate per riempire le caselle del
sudoku in modo tale che ogni riga, ogni
colonna e ogni regione contenga una
sola volta ogni figura.

<https://maestraglo.altervista.org/>

@maestraglo





Quadrati magici

Ricorda che la somma dei numeri inseriti in ogni riga, in ogni colonna e in ogni diagonale del quadrato deve essere uguale al valore della chiave.




	7	
9		1
4		

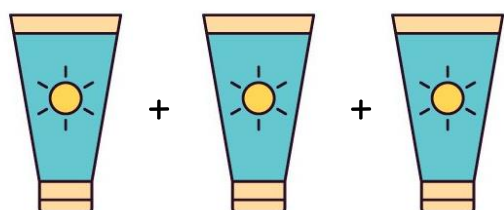
 = 15

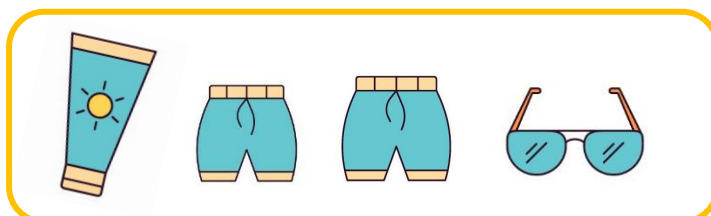
8		24
	12	

 = 60

Quanto costano gli occhiali?

 = € 18,00

 = € 15,00



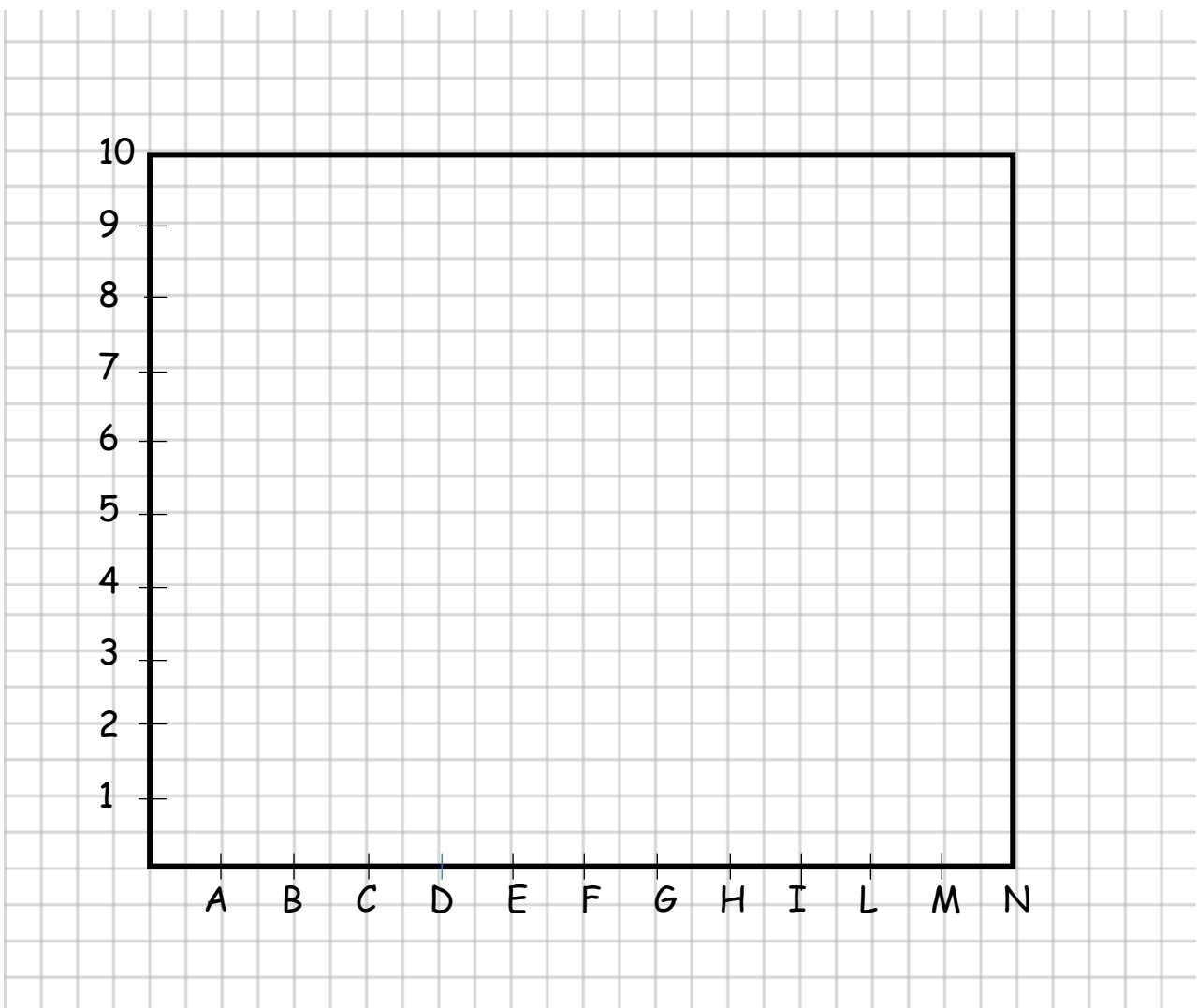
Totale = € 41,00



Reticolo

Questi saranno i punti da trovare, segnare e unire in ordine.

1. (C, 2) – (C, 7) – (D, 7) – (D, 6) – (E, 6)
2. (E, 7) – (F, 7) – (F, 6) – (G, 6) – (G, 7) – (H, 7)
3. (H, 6) – (I, 6) – (I, 7) – (L, 7)
4. (L, 2) – (G, 2) – (G, 4) – (F, 4) – (F, 2) – (C, 2)




È comparso un _____

4



Messaggio in codice



A =

B =

C =

D =

E =

F =

G =

H =

I =

J =

K =

L =

M =

N =

O =

P =

Q =

R =

S =

T =

U =

V =

W =

X =

Y =

Z =

. =


è =

! =


Ecco il messaggio segreto: _____

Coding e pixel art

5



Copia il disegno nella griglia bianca sottostante.
Successivamente scrivi il codice seguendo l'esempio.



CODICE:

Riga 1: 10 B – 1 V – 2 B

Riga 2: 10 B – 1 V – 2 B

Riga 3: 10 A – 1 V – 2 A

